

ورقة عمل للصف الخامس في مادة الدراسات الاجتماعية والتربية الوطنية

درس مجلس التعاون لدول الخليج العربية (طبيعياً)

السؤال الأول : أكتب المفاهيم والمصطلحات لكل من العبارات التالية :

موقع المكان بالنسبة إلى دوائر العرض وخطوط الطول.	
أرض منخفضة ومستوية السطح.	
حالة الجو خلال فترة زمنية طويلة في منطقة معينة.	
جبال تكونت بفعل الصدوع والانكسارات.	
سهول كونتها إرسابات الأودية.	
النبات الذي نشأ ونما من تلقاء نفسه دون تدخل الإنسان فيه.	
موقع المكان باستخدام الجهات الأصلية او الفرعية منسوباً إلى العالم أو القارة التي يوجد بها.	
جبال تكونت بفعل حركات الطي والالتواء.	
أرض مرتفعة وسطحها مستو ولكنها أقل ارتفاعاً من الجبل.	
سهول تجاور المسطحات المائية.	

السؤال الثاني : أكمل العبارات التالية :

- تمتد دول مجلس التعاون لدول الخليج العربية بين دائرتي عرض درجة شمال خط الاستواء، وبين خطي طول درجة شرق خط غرينتش.
- تقع دول مجلس التعاون لدول الخليج العربية وسط ، في أقصى جنوب غرب ، في إقليم
- تبلغ مساحة دول مجلس التعاون لدول الخليج العربية حوالي كم².
- تنقسم التضاريس في دول مجلس التعاون لدول الخليج العربية إلى : و و
- من أبرز الجبال في دول مجلس التعاون لدول الخليج العربية : و
- من أبرز الهضاب في دول مجلس التعاون لدول الخليج العربية : و
- من أبرز الواحات في دول مجلس التعاون لدول الخليج العربية : و
- من أبرز الأودية الجافة في دول مجلس التعاون لدول الخليج العربية : و
- تختلف السهول الساحلية في دول مجلس التعاون الخليجي من منطقة إلى أخرى من حيث و
- تشابه الخصائص المناخية في دول مجلس التعاون الخليجي بسبب
- عناصر المناخ هي : و و
- تهب على دول مجلس التعاون الخليجي رياح مثل الرياح والتي تسبب سقوط أمطار قليلة، بالإضافة إلى الرياح مثل و
- تتميز دول مجلس التعاون الخليجي بقلة الأمطار وعدم انتظامها بسبب
- تسقط الأمطار على دول مجلس التعاون الخليجي في فصل الشتاء باستثناء
- يتأثر النبات الطبيعي في دول مجلس التعاون الخليجي بـ و

السؤال الثالث : قارن بين كلا مما يلي :

جبال عمان	جبال البحر الأحمر
الموقع :	الموقع :
أهم الأودية :	أهم الأودية :
أعلى قممها :	أقسامها :

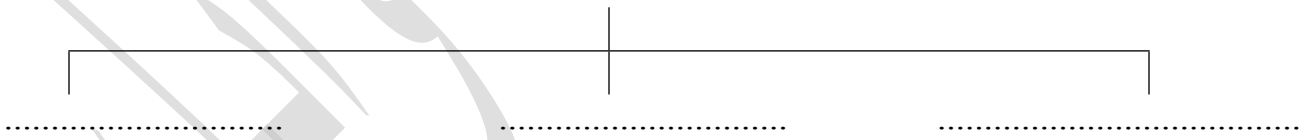
السهول الساحلية	السهول الفيضية
تجاور	كونتها
مثل :	مثل :

السؤال الرابع : أذكر الأهمية الإستراتيجية والاقتصادية والدينية والحضارية لدول مجلس التعاون الخليجي.

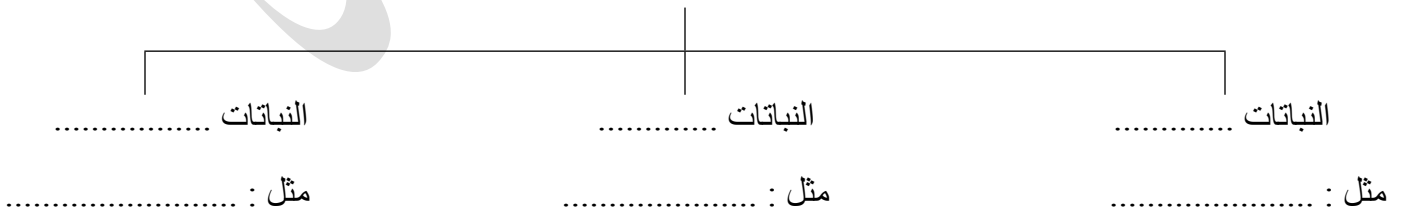
الأهمية الإستراتيجية
الأهمية الاقتصادية
الأهمية الدينية
الأهمية الحضارية

السؤال الخامس : أكمل المخططات التالية:

العوامل التي تأثر في مناخ دول مجلس التعاون الخليجي



أنواع النباتات الطبيعية في دول مجلس التعاون الخليجي



حل ورقة عمل للصف الخامس في مادة الدراسات الاجتماعية والتربية الوطنية

درس مجلس التعاون لدول الخليج العربية (طبيعياً)

السؤال الأول : أكتب المفاهيم والمصطلحات لكل من العبارات التالية :

الموقع الفلكي	موقع المكان بالنسبة إلى دوائر العرض وخطوط الطول.
السهول	أرض منخفضة ومستوية السطح.
المناخ	حالة الجو خلال فترة زمنية طويلة في منطقة معينة.
الجبال الانكسارية	جبال تكونت بفعل الصدوع والانكسارات.
السهول الفيضية	سهول كونتها إرسابات الأودية.
النبات الطبيعي	النبات الذي نشأ ونما من تلقاء نفسه دون تدخل الإنسان فيه.
الموقع النسبي	موقع المكان باستخدام الجهات الأصلية او الفرعية منسوباً إلى العالم أو القارة التي يوجد بها.
الجبال الالتوائية	جبال تكونت بفعل حركات الطي والالتواء.
الهضاب	أرض مرتفعة وسطحها مستو ولكنها أقل ارتفاعاً من الجبل.
السهول الساحلية	سهول تجاور المسطحات المائية.

السؤال الثاني : أكمل العبارات التالية :

- تمتد دول مجلس التعاون لدول الخليج العربية بين دائرتي عرض 16 – 32 درجة شمال خط الاستواء، وبين خطي طول 35 – 60 درجة شرق خط غرينتش.
- تقع دول مجلس التعاون لدول الخليج العربية وسط قارات العالم القديم، في أقصى جنوب غرب قارة آسيا، في إقليم شبه الجزيرة العربية.
- تبلغ مساحة دول مجلس التعاون لدول الخليج العربية حوالي 2,673,123 كم².
- تنقسم التضاريس في دول مجلس التعاون لدول الخليج العربية إلى : الجبال والهضاب والسهول.
- من أبرز الجبال في دول مجلس التعاون لدول الخليج العربية : جبال عمان وجبال البحر الأحمر.
- من أبرز الهضاب في دول مجلس التعاون لدول الخليج العربية : هضبة نجد و هضبة النفوذ.
- من أبرز الواحات في دول مجلس التعاون لدول الخليج العربية : واحة حائل وواحة العين وواحة ليوا.
- من أبرز الأودية الجافة في دول مجلس التعاون لدول الخليج العربية : وادي الدواسر و وادي الرمة.
- تختلف السهول الساحلية في دول مجلس التعاون الخليجي من منطقة إلى أخرى من حيث الاتساع وخصوبة التربة.
- تتشابه الخصائص المناخية في دول مجلس التعاون الخليجي بسبب وقوع جميع دول مجلس التعاون الخليجي في المنطقة الحارة ضمن نطاق المناخ الصحراوي الحار.
- عناصر المناخ هي : الحرارة والرياح والأمطار.
- تهب على دول مجلس التعاون الخليجي رياح دائمة مثل الرياح الشمالية الغربية والتي تسبب سقوط أمطار قليلة، بالإضافة إلى الرياح المحلية مثل رياح الكوس و الطوز.
- تتميز دول مجلس التعاون الخليجي بقلة الأمطار وعدم انتظامها بسبب وقوعها في المنطقة المدارية الصحراوية الجافة.
- تسقط الأمطار على دول مجلس التعاون الخليجي في فصل الشتاء باستثناء جبال عسير فتسقط الأمطار في فصل الصيف.
- يتأثر النبات الطبيعي في دول مجلس التعاون الخليجي بالظروف المناخية وبأشكال السطح المتنوعة.

السؤال الثالث : قارن بين كلا مما يلي :

جبال عمان	جبال البحر الأحمر
الموقع : الركن الجنوبي الشرقي من دول مجلس التعاون الخليجي.	الموقع : غرب المملكة العربية السعودية، موازية للبحر الأحمر.
أهم الأودية : سمائل	أهم الأودية : بيشة
أعلى قممها : الجبل الأخضر في عمان	أقسامها : جبال الحجاز وجبال عسير

السهول الساحلية	السهول الفيضية
تجاور المسطحات المائية	كونتها إرسابات الأودية
مثل : سهول الخليج العربي – سهول البحر الأحمر – سهول بحر عمان	مثل : وادي الدواسر – وادي السيجي – وادي الباطنة

السؤال الرابع : أذكر الأهمية الإستراتيجية والاقتصادية والدينية والحضارية لدول مجلس التعاون الخليجي.

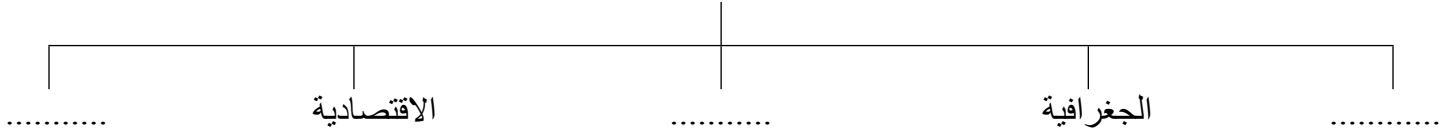
الأهمية الإستراتيجية	تشرف دول مجلس التعاون الخليجي على مسطحات مائية هامة مثل: الخليج العربي وبحر عمان ومضيق هرمز.
الأهمية الاقتصادية	اشتهرت من القدم بغنى مياه الخليج العربي والبحر الأحمر بمصائد اللؤلؤ والمرجان، وحديثاً باستخراج النفط والغاز الطبيعي، بالإضافة إلى العديد من الثروات المعدنية.
الأهمية الدينية	تعد شبه الجزيرة العربية مهبط الديانة الإسلامية، ويوجد على أرضها المسجد الحرام في مكة والمسجد النبوي في المدينة المنورة.
الأهمية الحضارية	نشأت على أرضها العديد من الحضارات القديمة مثل: حضارة ماجان في الإمارات، وحضارة دلمون في البحرين، وحضارة فليكا في الكويت.

السؤال الخامس : أكمل المخططات التالية:

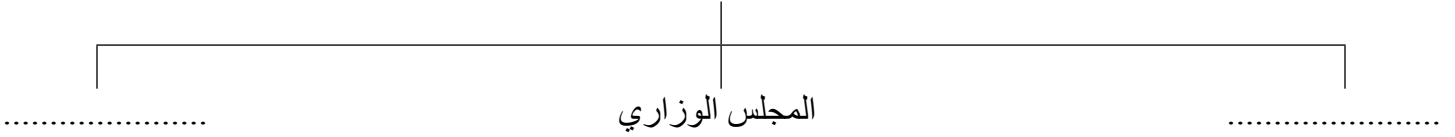
العوامل التي تؤثر في مناخ دول مجلس التعاون الخليجي



تتشارك دول مجلس التعاون الخليجي في العوامل



الهيكل التنظيمي لمجلس التعاون الخليجي



السؤال الخامس : أذكر كلا مما يلي :

أهداف مجلس التعاون الخليجي :

- 1.....
- 2.....
- 3.....

إنجازات مجلس التعاون الخليجي :

- 1.....
- 2.....
- 3.....
- 4.....
- 5.....
- 6.....

حل ورقة عمل للصف الخامس في مادة الدراسات الاجتماعية والتربية الوطنية

درس مجلس التعاون لدول الخليج العربية (تاريخياً)

السؤال الأول : أكتب المفاهيم والمصطلحات لكل من العبارات التالية :

المجلس الأعلى	السلطة العليا لمجلس التعاون الخليجي ويتكون من رؤساء الدول الأعضاء ورئاسته دورية.
الأمانة العامة	تتكون من أمين عام وأمناء مساعدين ويعين المجلس الأعلى الأمين العام لمدة ثلاث سنوات قابلة للتجديد مرة واحدة.
المجلس الوزاري	يتكون من وزراء خارجية الدول الأعضاء أو ما ينوب عنهم من الوزراء ويعقد اجتماعه مرة كل ثلاث شهور.
عبد الله يعقوب بشاره	أول أمين عام لمجلس التعاون لدول الخليج العربية.

السؤال الثاني : أذكر نتيجة كل مما يلي :

السبب	النتيجة
التقارب المكاني بين دول مجلس التعاون الخليجي.	وحده دول مجلس التعاون الخليجي سياسياً وطبيعياً والتماسك والترابط فيما بينها.
عدم وجود حدود طبيعية تفصل دول مجلس التعاون الخليجي.	سهولة الاتصال والانتقال بين دول مجلس التعاون الخليجي والوحدة فيما بينهم.
دول مجلس التعاون يعيشون ظروف اجتماعية واحدة.	تقارب وتشابه دول مجلس التعاون الخليجي في القيم السلوكية والأخلاقية والعادات والتقاليد.

السؤال الثالث : أكمل الجدول الزمني التالي :

التاريخ	الحدث	النتيجة
4 فبراير 1981م	عقد وزراء خارجية دول مجلس التعاون الخليجي مؤتمر في مدينة الرياض.	توقيع وثيقة إعلان مجلس التعاون لدول الخليج العربية.
25 مايو 1981م	عقد مؤتمر قمة القادة لدول مجلس التعاون الخليجي في مدينة أبوظبي.	أعلن رسمياً عن قيام مجلس التعاون لدول الخليج العربية واتخاذ الرياض مقراً دائماً للمجلس وأمانته.

السؤال الرابع : أكمل المخططات التالية :

مقومات الوحدة والترابط بين دول مجلس التعاون الخليجي

